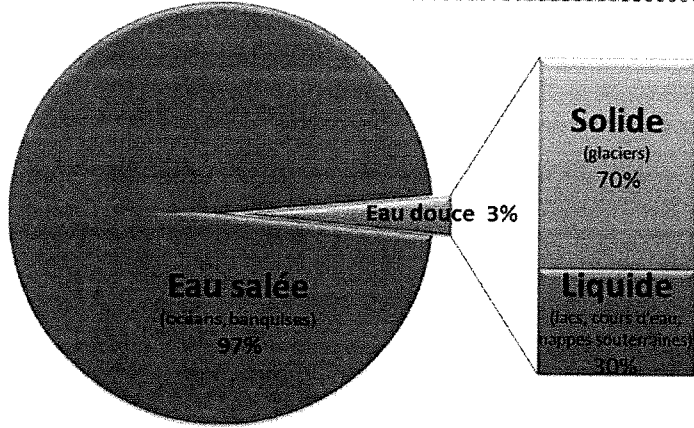




L'eau : une ressource limitée, inégalement répartie, bis



1) La plupart de l'eau que l'on trouve sur Terre est-elle salée ou douce ?

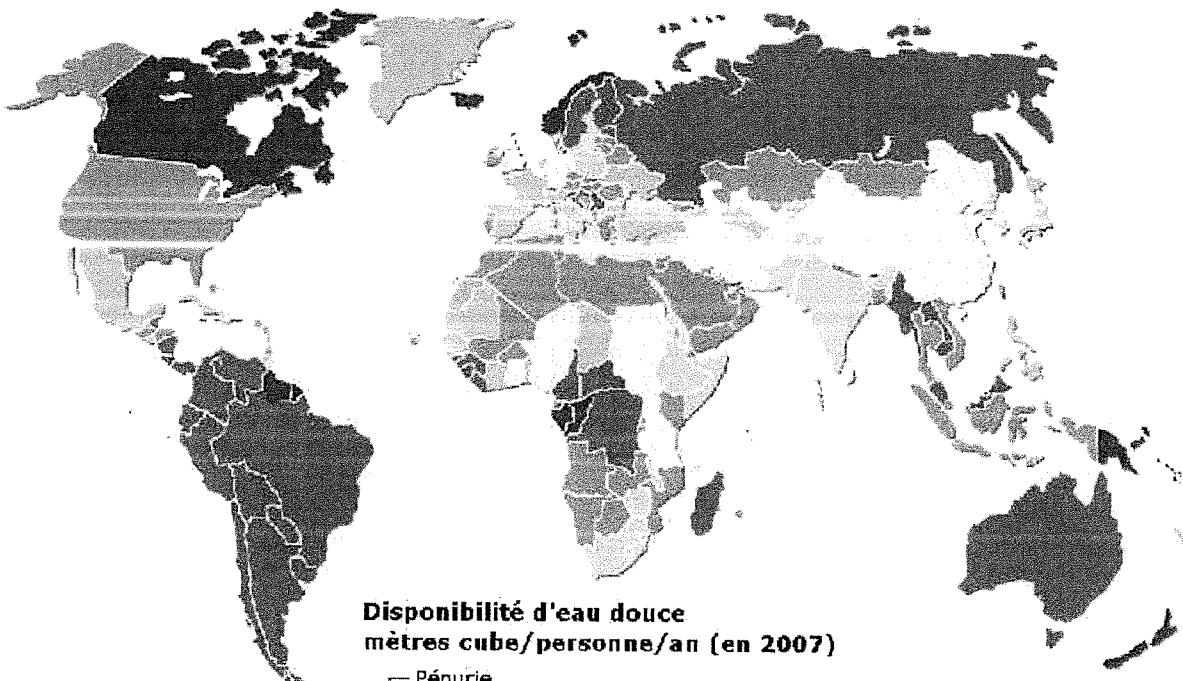
Salée douce

2) Où se trouve l'eau douce liquide ?

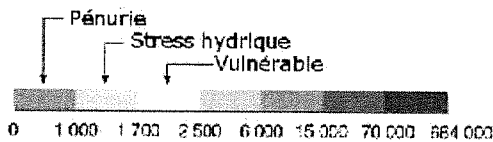
Elle se trouve dans les, les et les

L'eau est une ressource naturellement mal répartie :

Il ne pleut pas autant dans tous les pays du monde. Ainsi certaines zones dans le monde disposent de réserves d'eau douce très importantes. En revanche d'autres zones en manquent.



**Disponibilité d'eau douce
mètres cube/personne/an (en 2007)**



Source: FAO, Nations unies, World Resources Institute (WRI).

THE WRI AQUEDUCTS
FEBRUARY 2004

Données non fournies

3) Donne le nom de 3 pays qui manquent d'eau :

.....

4) Donne le nom de deux pays qui ont beaucoup d'eau :


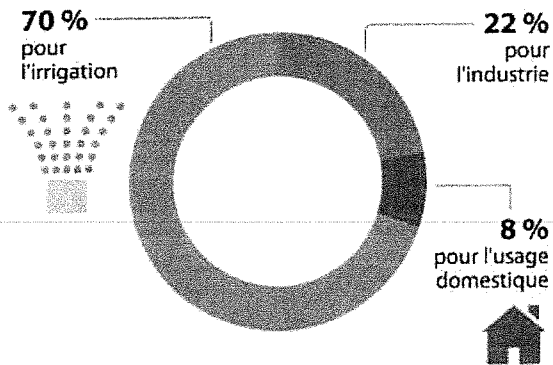
.....

5) De quelle quantité d'eau disposons-nous en France ?

.....
.....

Comment l'eau est-elle utilisée ?

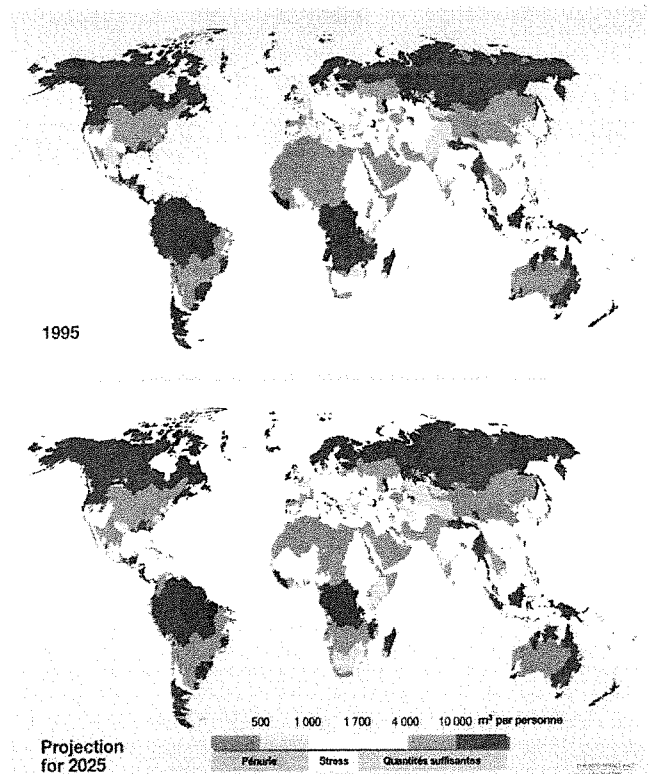
Utilisation de l'eau dans le monde



- 6) A quoi sert la majorité de l'eau ?
70% de l'eau est utilisée pour
- 7) Quelle proportion utilise-t-on pour un usage domestique, c'est-à-dire dans nos maisons ?
.....%
- 8) A ton avis à quoi sert l'eau que nous utilisons chez nous :
.....
.....
.....
- 9) Quelle quantité d'eau utilise-t-on en France ?
On utiliselitres d'eau par jour.
- 10) Quelle quantité d'eau un américain utilise-t-il ?
Il utiliselitres d'eau par jour.
- 11) Essaie d'expliquer pourquoi il consomme plus d'eau :
.....
.....
.....
- 12) Quelle quantité d'eau un Africain utilise-t-il ? :
Il utiliselitres d'eau par jour.

Comment évolue la quantité d'eau disponible ?

- 13) De quelles couleurs sont représentées les zones où l'eau commence à manquer ?
Elles sont représentées en
- 14) La quantité d'eau douce diminue-t-elle ou augmente-t-elle **dans le monde** ?
 Elle diminue Elle augmente
- 15) La quantité d'eau douce diminue-t-elle ou augmente-t-elle **en France** ?
 Elle diminue Elle augmente

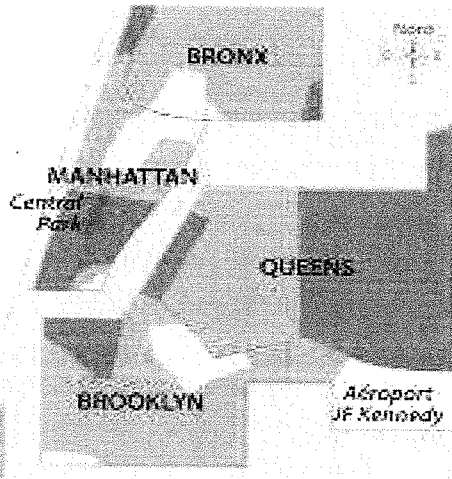


Séquence : L'inégalité des richesses dans le monde - New York

Doc 3 :	Ville de New York	État de New York	États-Unis
Revenu moyen en 2013 en Dollars (\$)	58003	54310	530657
Taux de pauvreté en 2014 en %	21	16	15

Revenu médian par foyer en dollar en 2011

- Plus de 75 000 \$
- De 25 000 à 75 000 \$
- Moins de 25 000 \$



3 | Les inégalités de revenus à New York

Doc 5 : Vivre dans un ghetto à New York

Santiago, 51 ans, originaire de Porto Rico est installé dans le Bronx depuis 30 ans.

Si vous habitez dans le quartier du Bronx, c'est que vous êtes pauvre. C'est tout simplement impossible d'essayer de rejoindre la classe moyenne ici. Il n'y a pas de travail . Près de 40% de la population vit au dessous du seuil de pauvreté. Il y a 90 cafés Starbucks à East Manhattan mais un seul ici dans le Bronx. Il y a 4 fois plus de meurtres et deux fois plus de vols. A 10 heures du matin, la police est déjà présente et surveille. Cela n'empêche pas le trafic de drogue de faire leur affaire à coté. Ici, on vend des vêtements bon marché et on accepte les alimentaires.

Dans le courrier international, 2011

Document 3 : Nature :

A New York en 2014, sur 100 habitants combien sont considérés comme pauvres ?

.....

Aux États Unis en 2014, sur 100 habitants combien sont considérés comme pauvres ?

.....

Document 4 : Nature :

Toutes les personnes vivant à NY gagnent-ils le même salaire ?

.....

Quelles sont les différences de revenu ?

.....

.....

Peut-on dire qu'il existe une égalité de revenu ?

.....

Quels sont les quartiers les plus riches ?

.....

Quels sont les quartiers les plus pauvres ?

.....

Document 5 : Nature :

Quelles sont les conséquences de la pauvreté à New York ?

.....

