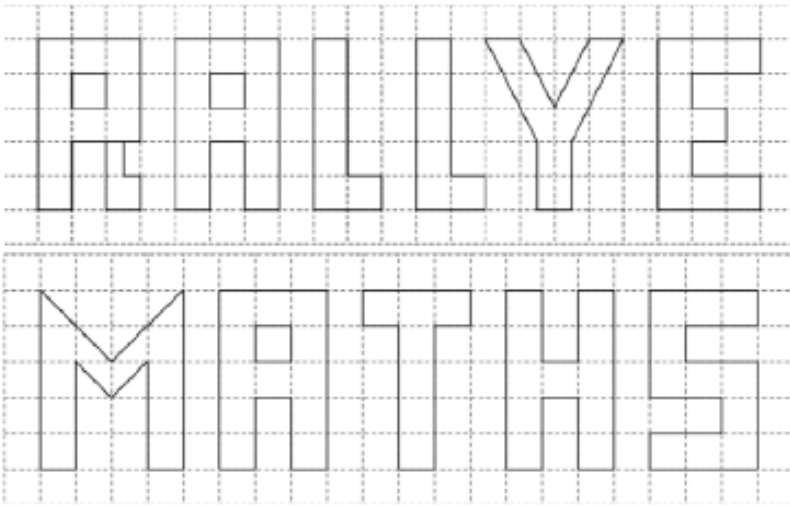


Exercices type Rallye Mathématiques pour la semaine du 30 mars au 03 avril

7 - Combien ?

Des élèves souhaitent peindre le mot Rallye en Bleu et le mot maths en Rouge.




Sachant qu'un pot de peinture permet de peindre 4 carreaux, combien de pots de peinture bleue et combien de pots de peinture rouge faut-il prévoir ?

8 - Rectangle

Prenez trois Z, trois I, un L et deux T :

Z :



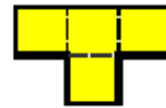
I :



L :



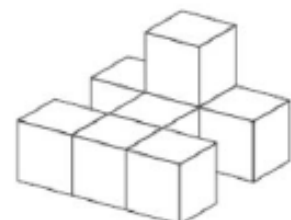
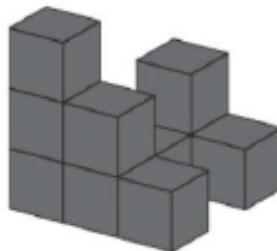
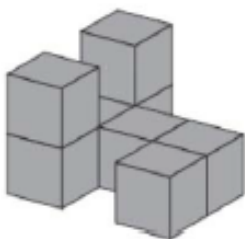
T :



Assemblez ces huit pièces pour construire un rectangle 5 x 6.

9 - Les pièces

On considère les 3 pièces suivantes (aucun cube n'est caché mais un cube repose forcément sur un autre cube ou sur le sol) :



Compléter le tableau de la fiche réponse avec le nombre de petits cubes composant chacune des pièces ainsi que l'empreinte que la pièce laisse au sol.